

PREFEITURA MUNICIPAL DE CONSELHEIRO LAFAIETE
SECRETARIA MUNICIPAL DE EDUCAÇÃO
Atividades Pedagógicas – 1º ano Ensino Fundamental
MATEMÁTICA- Data: 22/04/2020

DADOS DO (A) ALUNO (A)





















Escola:





















Nome:

Ano/Turma:

Professor (a):

DESCUBRA OS NÚMEROS QUE ESTÃO NO LUGAR DOS SÍMBOLOS.

1	2	3		5			8		
11			14		16	17		19	20
21		23		25	26		28		30
31	32		34	35		37		39	40
41	42	43			46			49	50

	<input type="text"/>		<input type="text"/>		<input type="text"/>		<input type="text"/>
	<input type="text"/>		<input type="text"/>		<input type="text"/>		<input type="text"/>
	<input type="text"/>		<input type="text"/>		<input type="text"/>		<input type="text"/>
	<input type="text"/>		<input type="text"/>		<input type="text"/>		<input type="text"/>
	<input type="text"/>		<input type="text"/>		<input type="text"/>		<input type="text"/>

Abraço carinhoso para você!

PREFEITURA MUNICIPAL DE CONSELHEIRO LAFAIETE
SECRETARIA MUNICIPAL DE EDUCAÇÃO
Atividades Pedagógicas – 1º ano Ensino Fundamental
LÍNGUA PORTUGUESA- Data: 22/04/2020

DADOS DO (A) ALUNO (A)

Escola:

Nome:

Ano/Turma:

Professor (a):

VAMOS COLORIR?

21 DE ABRIL - DIA DE TIRADENTES



Um grito de liberdade!

Em 21 de abril comemoramos o dia do primeiro sonho de um Brasil livre da colonização portuguesa, exato dia esse em que Tiradentes, Joaquim José da Silva Xavier, no ano de 1792, morreu enforcado. A Inconfidência foi o início da mudança que pretendia a liberdade do Brasil do domínio colonial português.

Muitos anos após a morte de Tiradentes, ele foi reconhecido como um grande herói do início da história da Independência do Brasil, e mais de 150 anos depois foi decretado como feriado nacional o dia 21 de abril como o dia de Tiradentes.

Responda:

1- Qual o mês em que comemoramos o dia de Tiradentes?

2- Como ele morreu?



Prefeitura
Conselheiro Lafaiete
SECRETARIA MUNICIPAL DE EDUCAÇÃO

PREFEITURA MUNICIPAL DE CONSELHEIRO LAFAIETE
SECRETARIA MUNICIPAL DE EDUCAÇÃO
Atividades Pedagógicas – 1º ano Ensino Fundamental
MATEMÁTICA- Data: 23/04/2020

DADOS DO (A) ALUNO (A)

Escola:

Nome:

Ano/Turma:

Professor (a):

Adição

$$\begin{array}{r} 9 \\ + 2 \\ \hline \end{array}$$

$$\begin{array}{r} 6 \\ + 3 \\ \hline \end{array}$$

$$\begin{array}{r} 8 \\ + 4 \\ \hline \end{array}$$

$$\begin{array}{r} 5 \\ + 5 \\ \hline \end{array}$$

$$\begin{array}{r} 7 \\ + 6 \\ \hline \end{array}$$

$$\begin{array}{r} 4 \\ + 7 \\ \hline \end{array}$$

$$\begin{array}{r} 2 \\ + 8 \\ \hline \end{array}$$

$$\begin{array}{r} 3 \\ + 9 \\ \hline \end{array}$$

$$\begin{array}{r} 1 \\ + 8 \\ \hline \end{array}$$

$$\begin{array}{r} 9 \\ + 8 \\ \hline \end{array}$$

$$\begin{array}{r} 8 \\ + 8 \\ \hline \end{array}$$

$$\begin{array}{r} 7 \\ + 8 \\ \hline \end{array}$$

$$\begin{array}{r} 6 \\ + 8 \\ \hline \end{array}$$

$$\begin{array}{r} 5 \\ + 6 \\ \hline \end{array}$$

$$\begin{array}{r} 4 \\ + 5 \\ \hline \end{array}$$

$$\begin{array}{r} 3 \\ + 4 \\ \hline \end{array}$$

$$\begin{array}{r} 2 \\ + 3 \\ \hline \end{array}$$

$$\begin{array}{r} 1 \\ + 2 \\ \hline \end{array}$$

$$\begin{array}{r} 7 \\ + 5 \\ \hline \end{array}$$

$$\begin{array}{r} 7 \\ + 4 \\ \hline \end{array}$$

$$\begin{array}{r} 7 \\ + 3 \\ \hline \end{array}$$

$$\begin{array}{r} 7 \\ + 2 \\ \hline \end{array}$$

$$\begin{array}{r} 6 \\ + 5 \\ \hline \end{array}$$

$$\begin{array}{r} 6 \\ + 4 \\ \hline \end{array}$$

$$\begin{array}{r} 6 \\ + 3 \\ \hline \end{array}$$

$$\begin{array}{r} 6 \\ + 2 \\ \hline \end{array}$$

$$\begin{array}{r} 5 \\ + 4 \\ \hline \end{array}$$

$$\begin{array}{r} 5 \\ + 3 \\ \hline \end{array}$$

$$\begin{array}{r} 4 \\ + 3 \\ \hline \end{array}$$

$$\begin{array}{r} 4 \\ + 2 \\ \hline \end{array}$$

PREFEITURA MUNICIPAL DE CONSELHEIRO LAFAIETE
SECRETARIA MUNICIPAL DE EDUCAÇÃO
Atividades Pedagógicas – 1º ano Ensino Fundamental
LÍNGUA PORTUGUESA- Data: 23/04/2020


DADOS DO (A) ALUNO (A)

Escola:

Nome:

Ano/Turma:

Professor (a):



QUANDO AS CRIANÇAS SE REÚNEM NA CASA DE VOVÓ, É SÓ ALEGRIA.
COMPLETE OS NOMES DOS BRINQUEDOS COM AS LETRAS
QUE ESTÃO FALTANDO.



B _ _ **C** _ _ **C** **L** _ _ **T** _ _



P _ _ **T** _ _ **N** _ _ **T** _ _



B _ _ **L** _ _ **C** **H** _ _



B _ _ **N** _ _ **C** _ _



D _ _ **M** _ _ **N** _ _



C _ _ **R** **D** _ _

PREFEITURA MUNICIPAL DE CONSELHEIRO LAFAIETE
SECRETARIA MUNICIPAL DE EDUCAÇÃO
Atividades Pedagógicas – 1º ano Ensino Fundamental

MATEMÁTICA- Data: 24/04/2020

DADOS DO (A) ALUNO (A)


Escola:

Nome:

Ano/Turma:

Professor (a):

① Resolva as adições e, depois, pinte da mesma cor os balões cujos resultados sejam iguais.



DADOS DO (A) ALUNO (A)

Escola:

Nome:

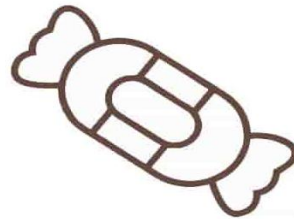
Ano/Turma:

Professor (a):


LIGUE AS FIGURAS AO NOME.



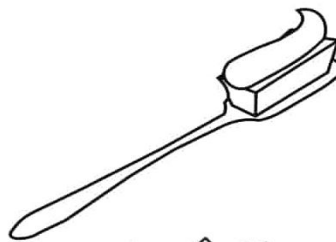
CAMA
CASA
CARRO



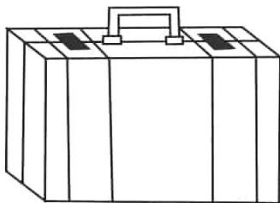
BATOM
BALA
BANCO



PALITO
PAPEL
PANELA




ESCOVA
ESCOLA
ESPIGA



MALA
MATO
MAPA




AMORA
ABACAXI
AMEIXA




CÉU
CANETA
CACHORRO



ÓCULOS
ORELHA
OVO



GELO
GULA
GALO



PEIXE
PIPA
PÃO

DADOS DO (A) ALUNO (A)

Escola:

Nome:

Ano/Turma:

Professor (a):

MATEMÁTICA

TREINANDO ADIÇÃO

$$\begin{array}{r} 4 \\ + 1 \\ \hline \square \end{array}$$

$$\begin{array}{r} 2 \\ + 4 \\ \hline \square \end{array}$$

$$\begin{array}{r} 5 \\ + 1 \\ \hline \square \end{array}$$



$$\begin{array}{r} 6 \\ + 3 \\ \hline \square \end{array}$$

$$\begin{array}{r} 7 \\ + 2 \\ \hline \square \end{array}$$

$$\begin{array}{r} 5 \\ + 4 \\ \hline \square \end{array}$$

$$\begin{array}{r} 2 \\ + 6 \\ \hline \square \end{array}$$

$$\begin{array}{r} 4 \\ + 3 \\ \hline \square \end{array}$$

$$\begin{array}{r} 6 \\ + 1 \\ \hline \square \end{array}$$



PREFEITURA MUNICIPAL DE CONSELHEIRO LAFAIETE
SECRETARIA MUNICIPAL DE EDUCAÇÃO
Atividades Pedagógicas – 1º ano Ensino Fundamental
LÍNGUA PORTUGUESA- Data: 27/04/2020

DADOS DO (A) ALUNO (A)


Escola:

Nome:

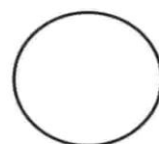
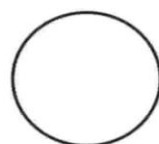
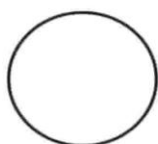
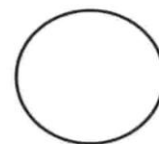
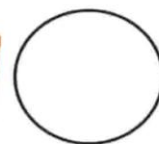
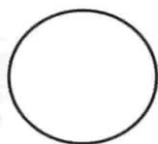
Ano/Turma:

Professor (a):

COMPLETE A SEQUÊNCIA ALFABÉTICA.



ESCREVA A LETRA INICIAL DE CADA DESENHO.



PREFEITURA MUNICIPAL DE CONSELHEIRO LAFAIETE
SECRETARIA MUNICIPAL DE EDUCAÇÃO
Atividades Pedagógicas – 1º ano Ensino Fundamental
MATEMÁTICA- Data: 28/04/2020

DADOS DO (A) ALUNO (A)	
Escola:	
Nome:	
Ano/Turma:	Professor (a):

Matemática

Observe a seqüência e complete com os números que faltam:

1		3	4	5
6	7		9	
	12	13		15
16		18	19	
	22			25

Repita a seqüência numérica no espaço abaixo:

--

PREFEITURA MUNICIPAL DE CONSELHEIRO LAFAIETE
SECRETARIA MUNICIPAL DE EDUCAÇÃO
Atividades Pedagógicas – 1º ano Ensino Fundamental
LÍNGUA PORTUGUESA- Data: 28/04/2020

DADOS DO (A) ALUNO (A)	
Escola:	
Nome:	
Ano/Turma:	Professor (a):

FORMANDO PALAVRAS

1 BA	2 BO	3 FU	4 DO	5 LA
6 CU	7 MA	8 PI	9 NE	10 TA
11 CE	12 PO	13 ÇA	14 VE	15 PE
16 FI	17 LA	18 TE	19 BA	20 CA

1-5

2-9-20

6-2

3-7-13

4-11

8-12-20

10-15-18

16-14-17

PREFEITURA MUNICIPAL DE CONSELHEIRO LAFAIETE
SECRETARIA MUNICIPAL DE EDUCAÇÃO
Atividades Pedagógicas – 1º ano Ensino Fundamental
MATEMÁTICA- Data: 29/04/2020

DADOS DO (A) ALUNO (A)

Escola:

Nome:

Ano/Turma:

Professor (a):

COMPLETE



$6 + 2 = \square$

$3 + 2 = \square$

$4 + 3 = \square$

$8 + 1 = \square$

$5 + 2 = \square$

$6 + 3 = \square$

$7 + 2 = \square$

$2 + 2 = \square$

$4 + 4 = \square$

$4 + 6 = \square$

$3 + \square = 4$

$\square + 6 = 9$

$\square + 4 = 6$

$5 + \square = 14$

$5 + \square = 8$

$\square + 4 = 10$

$\square + 3 = 7$

$2 + \square = 7$

$2 + \square = 5$

$\square + 5 = 12$



ESCREVA DE 0 A 20 NO ESPAÇO ABAIXO:

DADOS DO (A) ALUNO (A)

Escola:

Nome:

Ano/Turma:

Professor (a):

Língua Portuguesa

O cachorro de Alice

Alice tem um cachorro de raça.

O cachorro se chama

Fumaça.

Fumaça gosta de passear com Alice.

Na rua, Fumaça é muito bravo. Se alguém caça de Alice, ele logo começa a latir.

A criançada da vizinhança acha Fumaça um cachorro muito valente.



Lídia M. Morais

Leia o texto com atenção e depois complete as frases:

a) _____ tem um cachorro de raça.

b) O cachorro se chama _____.

c) _____ gosta de passear com _____.

2) Responda

a) Como é o cachorro Fumaça?

DADOS DO (A) ALUNO (A)













Escola:

Nome:

Ano/Turma:

Professor (a):

Somos vizinhos!

QUEM MORA ANTES?	QUEM MORA DEPOIS?
 	 
 	 
 	 

A ARTE DE ENSINAR E APRENDER

Saudades de você!



DADOS DO (A) ALUNO (A)

Escola:

Nome:

Ano/Turma:

Professor (a):

1º DE MAIO DIA DO TRABALHADOR

Vamos refletir!

Ainda sou criança mas também trabalho. O trabalho principal de uma criança é estudar. Estudando vou crescer e, quando eu crescer vou ser um grande profissional. Enquanto eu for criança devo trabalhar em casa para ajudar a mamãe, o papai, os vizinhos em pequenas tarefas.

VAMOS REFLETIR:

O QUE UMA CRIANÇA PODE FAZER PARA AJUDAR A FAMÍLIA?
QUE TRABALHO VOCÊ FAZ ALÉM DE ESTUDAR?

