



Prefeitura  
Conselheiro Lafaiete  
SECRETARIA MUNICIPAL DE EDUCAÇÃO

PREFEITURA MUNICIPAL DE CONSELHEIRO LAFAIETE  
SECRETARIA MUNICIPAL DE EDUCAÇÃO  
Atividades Pedagógicas – 2º ano Ensino Fundamental  
MATEMÁTICA- Data: 22/04/2020

DADOS DO (A) ALUNO (A)

Escola:

Nome:

Ano/Turma:

Professor (a):

Observe o trenzinho.



Pinte de vermelho o 1º vagão.

Pinte de azul o 4º vagão.

Qual é o último vagão? \_\_\_\_\_

Junto com a professora complete com o número ordinal.  
Observando o quadro.

|    |    |    |    |    |    |    |    |    |     |
|----|----|----|----|----|----|----|----|----|-----|
|    |    |    |    |    |    |    |    |    |     |
| 1º | 2º | 3º | 4º | 5º | 6º | 7º | 8º | 9º | 10º |

O 4º é o sorvete

O \_\_\_\_\_ é o pião

O \_\_\_\_\_ é o sol

O \_\_\_\_\_ é o balão

O \_\_\_\_\_ é o sapato

O \_\_\_\_\_ é o carro

O \_\_\_\_\_ é a bola

DADOS DO (A) ALUNO (A)

Escola:

Nome:

Ano/Turma:

Professor (a):



COMPLETANDO, JUNTANDO E NUMERANDO

1) Complete as palavras com a letra s, e, depois, escreva-as abaixo.

ca \_\_\_\_ aco

te \_\_\_\_ oura

manho \_\_\_\_ o

cami \_\_\_\_ eta

sobreme \_\_\_\_ a

cami \_\_\_\_ ola

Letras maiúsculas  
só nos nomes  
próprios.



2) Siga as setas e forme as palavras.

Tere

me → sa

Eli

\_\_\_\_\_

\_\_\_\_\_

\_\_\_\_\_

va

avi → so

gulo

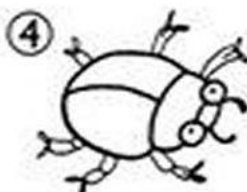
\_\_\_\_\_

\_\_\_\_\_

\_\_\_\_\_

3) Leia e numere as palavras de acordo com os desenhos:

- aviso
- besouro
- casaco
- tesoura
- asa
- casa



PREFEITURA MUNICIPAL DE CONSELHEIRO LAFAIETE  
SECRETARIA MUNICIPAL DE EDUCAÇÃO  
Atividades Pedagógicas – 2º ano Ensino Fundamental  
MATEMÁTICA- Data: 23/04/2020

DADOS DO (A) ALUNO (A)

Escola:

Nome:

Ano/Turma:

Professor (a):

OBSERVE OS NUMERAIS E  
COMPLETE COM O QUE É  
PEDIDO. VOCÊ É CAPAZ!



1-QUEM VEM ANTES?

← 7      ← 2      ← 9

2-QUEM VEM DEPOIS?

4 →      2 →      0 →

3-QUEM ESTÁ ENTRE?

|                              |                              |
|------------------------------|------------------------------|
| 3 ← <input type="text"/> → 5 | 7 ← <input type="text"/> → 9 |
| 0 ← <input type="text"/> → 2 | 4 ← <input type="text"/> → 6 |
| 6 ← <input type="text"/> → 8 | 1 ← <input type="text"/> → 3 |


DADOS DO (A) ALUNO (A)

Escola:

Nome:

Ano/Turma:

Professor (a):



Vamos brincar de recortar e depois colar.

Complete as frases de acordo com as palavrinhas no quadro.

- a) Edson está brincando no \_\_\_\_\_ da escola.  
b) Mamãe está fazendo \_\_\_\_\_ frita.  
c) Lucas comprou uma \_\_\_\_\_ de doce.  
d) André colocou a \_\_\_\_\_ e saiu.

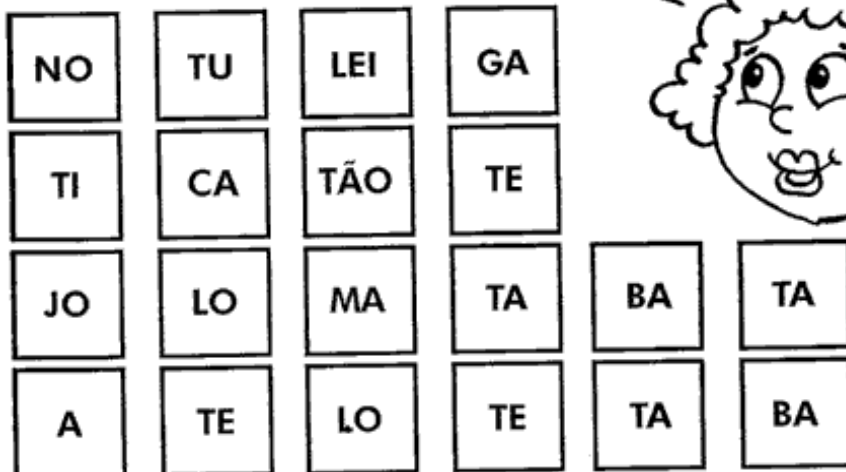
bota

lata

batata

pátio

Agora, recorte as sílabas, monte palavrinhas e cole em seu caderno.



(leite - gato - tuano - lote - mata - batata - abacate - tijolo)

DADOS DO (A) ALUNO (A)

Escola:

Nome:

Ano/Turma:

Professor (a):

## CAÇA-NÚMEROS

- Encontre, no caça-números, os números abaixo:

Vinte e seis = \_\_\_\_\_

Vinte e dois = \_\_\_\_\_

Dezessete = \_\_\_\_\_

Dez = \_\_\_\_\_

Vinte e cinco = \_\_\_\_\_

Trinta e nove = \_\_\_\_\_

Dezesseis = \_\_\_\_\_


Vinte e um = \_\_\_\_\_

Dezoito = \_\_\_\_\_

Vinte e sete = \_\_\_\_\_

Dezenove = \_\_\_\_\_

Trinta e um = \_\_\_\_\_



|   |   |   |   |   |   |   |   |   |   |
|---|---|---|---|---|---|---|---|---|---|
| 1 | 3 | 0 | 9 | 5 | 4 | 2 | 1 | 3 | 4 |
| 3 | 2 | 7 | 6 | 2 | 5 | 0 | 3 | 0 | 9 |
| 4 | 3 | 1 | 8 | 5 | 1 | 1 | 6 | 7 | 0 |
| 5 | 2 | 5 | 1 | 2 | 6 | 3 | 2 | 9 | 6 |
| 1 | 7 | 2 | 6 | 1 | 9 | 2 | 9 | 2 | 1 |
| 2 | 2 | 7 | 0 | 3 | 3 | 1 | 4 | 6 | 5 |
| 5 | 1 | 0 | 3 | 2 | 0 | 3 | 2 | 6 | 0 |
| 2 | 4 | 4 | 2 | 5 | 4 | 5 | 1 | 2 | 4 |
| 0 | 3 | 1 | 6 | 1 | 2 | 1 | 7 | 4 | 1 |
| 3 | 1 | 6 | 0 | 3 | 9 | 3 | 3 | 1 | 5 |

- Agora, escreva o antecessor e o sucessor de cada um deles:

|  |    |  |  |    |  |  |    |  |    |
|--|----|--|--|----|--|--|----|--|----|
|  |    |  |  |    |  |  |    |  |    |
|  | 26 |  |  | 16 |  |  | 32 |  | 17 |

|  |    |  |  |    |  |  |    |  |    |
|--|----|--|--|----|--|--|----|--|----|
|  |    |  |  |    |  |  |    |  |    |
|  | 25 |  |  | 10 |  |  | 27 |  | 21 |

|  |    |  |  |    |  |  |    |  |    |
|--|----|--|--|----|--|--|----|--|----|
|  |    |  |  |    |  |  |    |  |    |
|  | 19 |  |  | 39 |  |  | 18 |  | 31 |

DADOS DO (A) ALUNO (A)

Escola:

Nome:

Ano/Turma:

Professor (a):

## ● PATINHO

*Gerusa Rodrigues Pinto*

O patinho amarelinho  
Saiu da casca do ovo  
E depressa foi procurar  
O laguinho para nadar.

E depois bem molhadinho  
Saiu pela mamãe a procurar.  
E a mamãe Pata bem depressa  
Levou-o para o ninho quentinho.



✍ Circule na poesia acima as palavras que começam com a letra **P**.

✍ A poesia fala de um animal ovíparo. Qual é ele?

✍ Qual era a cor do pato? \_\_\_\_\_

✍ Onde o pato nadou? \_\_\_\_\_

✍ Faça um lindo desenho sobre o poema.

DADOS DO (A) ALUNO (A)


Escola:

Nome:

Ano/Turma:

Professor (a):

## Calculando!



Resolva as questões abaixo:

|                                   |                                  |                                  |                                  |
|-----------------------------------|----------------------------------|----------------------------------|----------------------------------|
| $5 \times 2 = \underline{\quad}$  | $9 \times 2 = \underline{\quad}$ | $1 \times 2 = \underline{\quad}$ | $7 \times 2 = \underline{\quad}$ |
| $3 \times 2 = \underline{\quad}$  | $2 \times 2 = \underline{\quad}$ | $5 \times 2 = \underline{\quad}$ | $0 \times 2 = \underline{\quad}$ |
| $8 \times 2 = \underline{\quad}$  | $7 \times 2 = \underline{\quad}$ | $8 \times 2 = \underline{\quad}$ | $2 \times 2 = \underline{\quad}$ |
| $10 \times 2 = \underline{\quad}$ | $0 \times 2 = \underline{\quad}$ | $3 \times 2 = \underline{\quad}$ | $6 \times 2 = \underline{\quad}$ |
| $4 \times 2 = \underline{\quad}$  | $6 \times 2 = \underline{\quad}$ | $9 \times 2 = \underline{\quad}$ | $4 \times 2 = \underline{\quad}$ |

|                                  |                                   |                                  |                                   |
|----------------------------------|-----------------------------------|----------------------------------|-----------------------------------|
| $9 \times 2 = \underline{\quad}$ | $10 \times 2 = \underline{\quad}$ | $2 \times 2 = \underline{\quad}$ | $8 \times 2 = \underline{\quad}$  |
| $6 \times 2 = \underline{\quad}$ | $4 \times 2 = \underline{\quad}$  | $5 \times 2 = \underline{\quad}$ | $6 \times 2 = \underline{\quad}$  |
| $0 \times 2 = \underline{\quad}$ | $7 \times 2 = \underline{\quad}$  | $1 \times 2 = \underline{\quad}$ | $10 \times 2 = \underline{\quad}$ |
| $5 \times 2 = \underline{\quad}$ | $8 \times 2 = \underline{\quad}$  | $9 \times 2 = \underline{\quad}$ | $3 \times 2 = \underline{\quad}$  |
| $3 \times 2 = \underline{\quad}$ | $1 \times 2 = \underline{\quad}$  | $4 \times 2 = \underline{\quad}$ | $2 \times 2 = \underline{\quad}$  |



DADOS DO (A) ALUNO (A)

Escola:

Nome:


Ano/Turma:

Professor (a):



COMPLETANDO O TEXTO

1) Numere as cenas de acordo com a ordem dos acontecimentos.



2) Use as palavras do quadro e complete a história.

irmãos – surpresa – ingredientes – forno  
aniversário – feliz – trabalho – livro

Era \_\_\_\_\_ da mãe de Frederico e de Isabele.

Eles resolveram fazer-lhe uma surpresa.

Isabele pegou o \_\_\_\_\_ de receitas e os \_\_\_\_\_  
para fazer o bolo.

Os dois \_\_\_\_\_ prepararam o bolo e o colocaram  
no \_\_\_\_\_ para assar.

Quando mamãe chegou do \_\_\_\_\_, ficou  
muito \_\_\_\_\_ com a \_\_\_\_\_ que os filhos  
lhe prepararam.

3) Quantos anos a mamãe dos  
meninos está fazendo? Coloque  
a idade dela no bolo e enfeite-o.





PREFEITURA MUNICIPAL DE CONSELHEIRO LAFAIETE  
SECRETARIA MUNICIPAL DE EDUCAÇÃO  
Atividades Pedagógicas – 2º ano Ensino Fundamental  
MATEMÁTICA- Data: 28/04/2020

DADOS DO (A) ALUNO (A)


Escola:

Nome:

Ano/Turma:

Professor (a):

Calcule:



$$\begin{array}{r} 63 \\ + 24 \\ \hline \end{array} \quad \begin{array}{r} 42 \\ + 50 \\ \hline \end{array} \quad \begin{array}{r} 15 \\ + 63 \\ \hline \end{array} \quad \begin{array}{r} 71 \\ + 6 \\ \hline \end{array} \quad \begin{array}{r} 45 \\ + 32 \\ \hline \end{array}$$

$$\begin{array}{r} 86 \\ + 12 \\ \hline \end{array} \quad \begin{array}{r} 16 \\ + 52 \\ \hline \end{array} \quad \begin{array}{r} 45 \\ + 34 \\ \hline \end{array} \quad \begin{array}{r} 50 \\ + 19 \\ \hline \end{array} \quad \begin{array}{r} 61 \\ + 17 \\ \hline \end{array}$$

$$\begin{array}{r} 42 \\ + 36 \\ \hline \end{array} \quad \begin{array}{r} 54 \\ + 22 \\ \hline \end{array} \quad \begin{array}{r} 35 \\ + 41 \\ \hline \end{array} \quad \begin{array}{r} 27 \\ + 31 \\ \hline \end{array} \quad \begin{array}{r} 30 \\ + 49 \\ \hline \end{array}$$

$$\begin{array}{r} 15 \\ + 72 \\ \hline \end{array} \quad \begin{array}{r} 23 \\ + 54 \\ \hline \end{array} \quad \begin{array}{r} 41 \\ + 18 \\ \hline \end{array} \quad \begin{array}{r} 20 \\ + 59 \\ \hline \end{array} \quad \begin{array}{r} 62 \\ + 16 \\ \hline \end{array}$$

$$\begin{array}{r} 44 \\ + 33 \\ \hline \end{array} \quad \begin{array}{r} 51 \\ + 26 \\ \hline \end{array} \quad \begin{array}{r} 36 \\ + 61 \\ \hline \end{array} \quad \begin{array}{r} 25 \\ + 42 \\ \hline \end{array} \quad \begin{array}{r} 72 \\ + 12 \\ \hline \end{array}$$



PREFEITURA MUNICIPAL DE CONSELHEIRO LAFAIETE  
SECRETARIA MUNICIPAL DE EDUCAÇÃO  
Atividades Pedagógicas – 2º ano Ensino Fundamental  
LINGUA PORTUGUESA - Data: 28/04/2020

DADOS DO (A) ALUNO (A)

Escola:

Nome:

Ano/Turma:

Professor (a):

**A BAILARINA**

TOQUINHO

UM, DOIS, TRÊS E QUATRO,  
DOBRO A PERNA E DOU UM SALTO,  
VIRO E ME VIRO AO REVÉS  
E SE EU CAIO CONTO ATÉ DEZ.

DEPOIS, ESSA LENGUA-LENGA  
TODA RECOMEÇA.  
PUXA VIDA, ORA ESSA!  
VIVO NA PONTA DOS PÉS.



1. QUAL O TÍTULO DA CANÇÃO?

\_\_\_\_\_

2. QUAL O NOME DE SEU COMPOSITOR?

\_\_\_\_\_

3. VOCÊ CONHECE ALGUMA OUTRA MÚSICA QUE FALE SOBRE BAILARINA?

\_\_\_\_\_


4. OBSERVE OS NOMES DOS NÚMEROS QUE APARECEM NO TRECHO DA MÚSICA E ESCREVA-OS NA ORDEM DECRESCENTE.

PREFEITURA MUNICIPAL DE CONSELHEIRO LAFAIETE  
SECRETARIA MUNICIPAL DE EDUCAÇÃO  
Atividades Pedagógicas – 2º ano Ensino Fundamental  
MATEMÁTICA- Data: 29/04/2020

DADOS DO (A) ALUNO (A)

|            |                |
|------------|----------------|
| Escola:    |                |
| Nome:      |                |
| Ano/Turma: | Professor (a): |

Calcule:



$$\begin{array}{r} 5 \\ + 3 \\ \hline \end{array}$$

$$\begin{array}{r} 55 \\ + 434 \\ \hline \end{array}$$

$$\begin{array}{r} 343 \\ + 222 \\ \hline \end{array}$$

$$\begin{array}{r} 545 \\ + 141 \\ \hline \end{array}$$

$$\begin{array}{r} 626 \\ + 351 \\ \hline \end{array}$$

$$\begin{array}{r} 401 \\ + 366 \\ \hline \end{array}$$

$$\begin{array}{r} 237 \\ + 460 \\ \hline \end{array}$$

$$\begin{array}{r} 374 \\ + 512 \\ \hline \end{array}$$

$$\begin{array}{r} 216 \\ + 62 \\ \hline \end{array}$$

$$\begin{array}{r} 618 \\ + 361 \\ \hline \end{array}$$

$$\begin{array}{r} 531 \\ + 307 \\ \hline \end{array}$$

$$\begin{array}{r} 125 \\ + 451 \\ \hline \end{array}$$

$$\begin{array}{r} 250 \\ + 645 \\ \hline \end{array}$$

$$\begin{array}{r} 161 \\ + 704 \\ \hline \end{array}$$

$$\begin{array}{r} 437 \\ + 211 \\ \hline \end{array}$$

$$\begin{array}{r} 528 \\ + 310 \\ \hline \end{array}$$

$$\begin{array}{r} 691 \\ + 205 \\ \hline \end{array}$$

$$\begin{array}{r} 74 \\ + 812 \\ \hline \end{array}$$

$$\begin{array}{r} 506 \\ + 273 \\ \hline \end{array}$$

$$\begin{array}{r} 491 \\ + 404 \\ \hline \end{array}$$

$$\begin{array}{r} 275 \\ + 312 \\ \hline \end{array}$$

DADOS DO (A) ALUNO (A)

Escola:

Nome:

Ano/Turma:

Professor (a):

SÍLABAS COM: AS – ES – IS – OS – US

O CASTELO

Estela é uma fada.

Ela mora em um castelo.

As paredes do castelo são de biscoitos.

As janelas são roscas de coco.

As portas são feitas de bolos e suspiros.

As escadas são de goiabada cascão.

Todos os dias Estela vai À cascata do castelo.

A cascata é de suco de uvas maduras.

Você gostaria de ir ao castelo de Estela?



PASSOS, Lucina. . O castelo. São Paulo: Scipione, 1995.

**INTERPRETANDO O TEXTO.**

1. Qual o título deste texto?

2. Qual nome da personagem principal? Onde ela mora?

3. Como são as paredes deste lugar?

4. Como são as portas?

5. O que é feito de suco de uvas maduras?

6. Ouça o ditado do professor com atenção.



Prefeitura  
Conselheiro Lafaiete  
SECRETARIA MUNICIPAL DE EDUCAÇÃO

PREFEITURA MUNICIPAL DE CONSELHEIRO LAFAIETE  
SECRETARIA MUNICIPAL DE EDUCAÇÃO  
Atividades Pedagógicas – 2º ano Ensino Fundamental  
MATEMÁTICA- Data: 30/04/2020

DADOS DO (A) ALUNO (A)

Escola:

Nome:

Ano/Turma:

Professor (a):

## PROBLEMATIZANDO



Recorte, cole no caderno e resolva.

A) Luana tem 195 chaveiros para distribuir entre 15 crianças. Quantos chaveiros receberá cada criança?

B) Vítor tinha 978 lápis em sua coleção. Ele guardou 354 lápis e o restante distribuiu entre 24 colegas. Quantos lápis ganhou cada colega de Vítor?

C) O produto de dois números é 47 160. Um desses números é 18. Qual é o outro?

D) Distribua 124 figurinhas entre 2 crianças, de modo que uma delas receba 13 figurinhas a mais que a outra. Quantas figurinhas receberá cada criança?

E) Um vendedor distribuiu 5 460 livros em 52 caixas. Quantos livros colocou em cada caixa?

F) A professora Júlia vai fazer uma caixinha de surpresas para distribuir entre seus 25 alunos. Ela comprou 124 barrinhas de chocolate, 226 balas e 50 pirulitos para colocar nas caixinhas. Quantos doces Júlia colocará em cada caixinha?

G) Um número multiplicado por 42 é igual a 35 574. Qual é o número?

DADOS DO (A) ALUNO (A)

Escola:

Nome:

Ano/Turma:

Professor (a):

SÍLABAS COM: **GE - GI**

**A GIRAFA**

Gina e Eugênio são gêmeos.  
Domingo eles foram ao zoológico.  
Muita gente foi ver a girafa.  
A girafa é um animal selvagem.  
Eugênio perguntou a Gina:  
\_\_ Ouviu o rugido da girafa?  
Gina riu do irmão gêmeo e falou:  
\_\_ A girafa não ruge. Ela é muda!



**INTERPRETANDO O TEXTO.**

1. Qual o título deste texto?

2. Como se chamam os personagens da história?

3. Que local eles foram visitar?

4. Escreva o nome do animal que eles viram no zoológico.

5. Você acha que existem outros animais no zoológico? Faça uma lista abaixo.