



PREFEITURA MUNICIPAL DE CONSELHEIRO LAFAIETE
SECRETARIA MUNICIPAL DE EDUCAÇÃO
Atividades Pedagógicas – 3º ano Ensino Fundamental
MATEMÁTICA- Data: 22/04/2020

DADOS DO (A) ALUNO (A)

Escola:

Nome:

Ano/Turma:

Professor (a):

CAÇA RESULTADO



8	0	5	4	3	2	5	7	9	6
1	3	2	3	4	5	0	6	0	4
0	5	9	6	9	7	5	3	9	8
7	3	1	0	5	9	5	6	1	0
2	0	9	4	7	4	0	8	7	1
0	7	8	9	3	0	9	6	4	5
8	2	8	0	5	6	2	9	3	0
0	9	5	7	0	4	9	5	3	4
7	5	3	9	2	6	0	7	9	8

Resolva as adições e procure os resultados no caça-palavras:

$$\begin{array}{r} \text{C|D|U} \\ 1|5|5 \\ + 4|9|3 \\ \hline \end{array}$$

$$\begin{array}{r} \text{C|D|U} \\ 5|4|1 \\ + 2|6|4 \\ \hline \end{array}$$

$$\begin{array}{r} \text{C|D|U} \\ 4|1|9 \\ + 1|5|4 \\ \hline \end{array}$$

$$\begin{array}{r} \text{C|D|U} \\ 1|7|3 \\ + 1|6|6 \\ \hline \end{array}$$

$$\begin{array}{r} \text{C|D|U} \\ 4|3|7 \\ + 3|1|6 \\ \hline \end{array}$$

$$\begin{array}{r} \text{C|D|U} \\ 4|7|2 \\ + 1|7|4 \\ \hline \end{array}$$

$$\begin{array}{r} \text{C|D|U} \\ 3|3|0 \\ + 4|9|8 \\ \hline \end{array}$$

$$\begin{array}{r} \text{C|D|U} \\ 3|4|3 \\ + 5|2|8 \\ \hline \end{array}$$



Prefeitura
Conselheiro Lafaiete
SECRETARIA MUNICIPAL DE EDUCAÇÃO

PREFEITURA MUNICIPAL DE CONSELHEIRO LAFAIETE

SECRETARIA MUNICIPAL DE EDUCAÇÃO

Atividades Pedagógicas – 3º ano Ensino Fundamental

MATEMÁTICA- Data: 23/04/2020

DADOS DO (A) ALUNO (A)

Escola:

Nome:

Ano/Turma:

Professor (a):

TREINANDO A ADIÇÃO:

$$\begin{array}{r} 63 \\ + 24 \\ \hline \end{array} \quad \begin{array}{r} 42 \\ + 50 \\ \hline \end{array} \quad \begin{array}{r} 15 \\ + 63 \\ \hline \end{array} \quad \begin{array}{r} 71 \\ + 6 \\ \hline \end{array} \quad \begin{array}{r} 45 \\ + 32 \\ \hline \end{array}$$

$$\begin{array}{r} 86 \\ + 12 \\ \hline \end{array} \quad \begin{array}{r} 16 \\ + 52 \\ \hline \end{array} \quad \begin{array}{r} 45 \\ + 34 \\ \hline \end{array} \quad \begin{array}{r} 50 \\ + 19 \\ \hline \end{array} \quad \begin{array}{r} 61 \\ + 17 \\ \hline \end{array}$$

$$\begin{array}{r} 42 \\ + 36 \\ \hline \end{array} \quad \begin{array}{r} 54 \\ + 22 \\ \hline \end{array} \quad \begin{array}{r} 35 \\ + 41 \\ \hline \end{array} \quad \begin{array}{r} 27 \\ + 31 \\ \hline \end{array} \quad \begin{array}{r} 30 \\ + 49 \\ \hline \end{array}$$

$$\begin{array}{r} 15 \\ + 72 \\ \hline \end{array} \quad \begin{array}{r} 23 \\ + 54 \\ \hline \end{array} \quad \begin{array}{r} 41 \\ + 18 \\ \hline \end{array} \quad \begin{array}{r} 20 \\ + 59 \\ \hline \end{array} \quad \begin{array}{r} 62 \\ + 16 \\ \hline \end{array}$$



Prefeitura
Conselheiro Lafaiete
SECRETARIA MUNICIPAL DE EDUCAÇÃO

PREFEITURA MUNICIPAL DE CONSELHEIRO LAFAIETE
SECRETARIA MUNICIPAL DE EDUCAÇÃO
Atividades Pedagógicas – 3º ano Ensino Fundamental
MATEMÁTICA- Data: 24/04/2020

DADOS DO (A) ALUNO (A)


Escola:

Nome:

Ano/Turma:

Professor (a):

CALCULANDO



A


$$\begin{array}{r} \square \square \\ 485 \\ + 230 \\ \hline \square \square \square \end{array}$$

B

$$\begin{array}{r} \square \square \\ 677 \\ + 94 \\ \hline \square \square \square \end{array}$$

C

$$\begin{array}{r} \square \square \\ 350 \\ + 128 \\ \hline \square \square \square \end{array}$$



D


$$\begin{array}{r} \square \square \\ 938 \\ + 15 \\ \hline \square \square \square \end{array}$$

E

$$\begin{array}{r} \square \square \\ 222 \\ + 139 \\ \hline \square \square \square \end{array}$$

F

$$\begin{array}{r} \square \square \\ 723 \\ + 260 \\ \hline \square \square \square \end{array}$$



G

$$\begin{array}{r} \square \square \\ 808 \\ + 145 \\ \hline \square \square \square \end{array}$$

H

$$\begin{array}{r} \square \square \\ 167 \\ + 90 \\ \hline \square \square \square \end{array}$$

I

$$\begin{array}{r} \square \square \\ 521 \\ + 218 \\ \hline \square \square \square \end{array}$$

DADOS DO (A) ALUNO (A)

Escola:

Nome:

Ano/Turma:

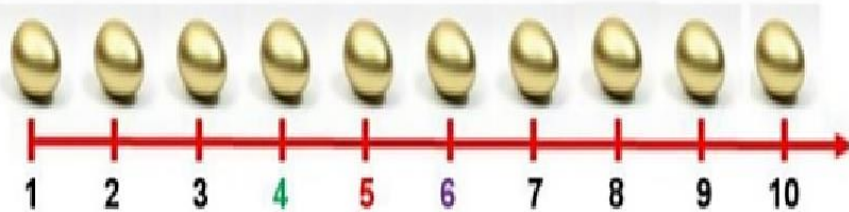
Professor (a):

Na semana que João trouxe a galinha dos ovos de ouro para casa, ela pôs 10 ovos de ouro.



1- Observe, na reta numérica, o número de ovos que a galinha pôs.

Você já sabe que os números têm uma sequência.



O número 4 é o **ANTECESSOR** do número 5, porque vem logo **ANTES** dele na reta numérica.

O número 6 é o **SUCCESSOR** do número 5, porque vem logo **DEPOIS** dele na reta numérica.

2- Observe a reta numérica acima e responda:

a) Quem é o antecessor do número 8? _____

b) Quem é o sucessor do número 3? _____

Usando símbolos...

3 é menor que 4

$$3 < 4$$

9 é maior que 8

$$9 > 8$$

2- Complete com o **SUCCESSOR** dos números:

$$4 < \underline{\quad}$$

$$28 < \underline{\quad}$$

3- Complete com o **ANTECESSOR** dos números:

$$5 > \underline{\quad}$$

$$18 > \underline{\quad}$$

Lembre-se!

Qualquer número é sempre menor que seu sucessor.

Qualquer número é sempre maior que seu antecessor.

A "abertura" do sinal fica sempre voltada para o número maior.



Prefeitura
Conselheiro Lafaiete
SECRETARIA MUNICIPAL DE EDUCAÇÃO

PREFEITURA MUNICIPAL DE CONSELHEIRO LAFAIETE

SECRETARIA MUNICIPAL DE EDUCAÇÃO

Atividades Pedagógicas – 3º ANO Ensino Fundamental

MATEMÁTICA – Data: 28/04/2020

DADOS DO (A) ALUNO (A)

Escola:

Nome:

Ano/Turma:





Professor (a):

DESAFIO

Lembre-se de que os números só aparecem uma vez em cada COLUNA e em cada LINHA!

1- Preencha o quadro com um número de forma que a soma dos números, na horizontal e na vertical da tabela, seja sempre a mesma.

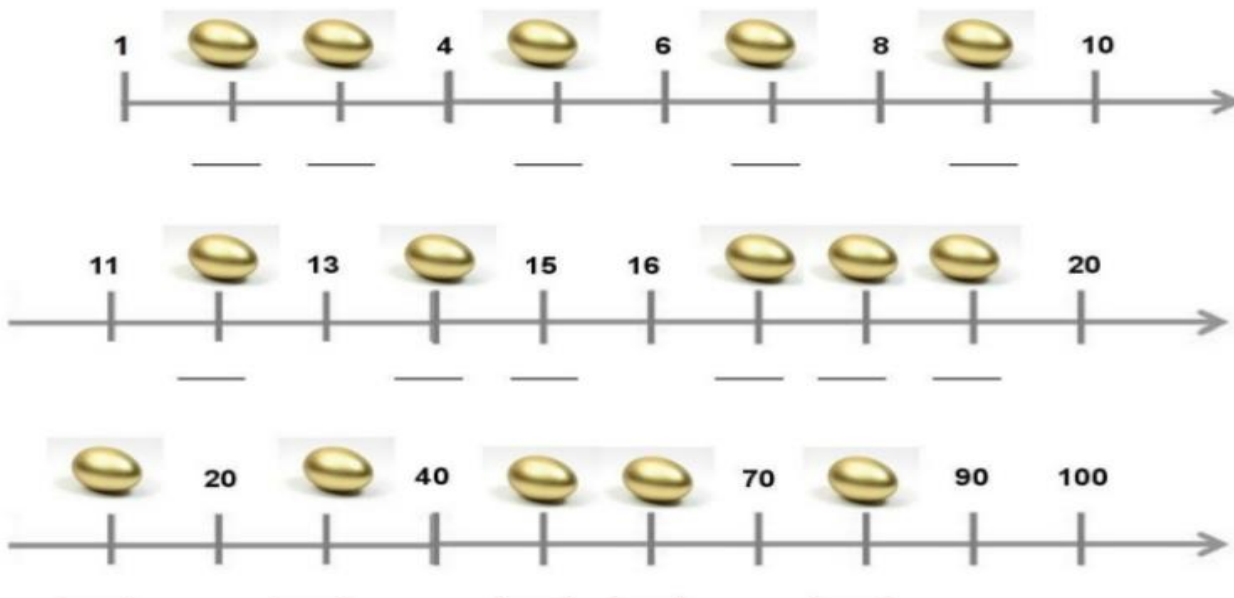
Somam
13

			6	
		2		
	5			

Somam
18

	8			
		3		
			7	

- Descubra as formas que João utilizou para organizar os ovos, completando a reta numérica.



DADOS DO (A) ALUNO (A)

Escola:

Nome:

Ano/Turma:

Professor (a):



Nossa!
As galinhas botaram muitos ovos!



João resolveu guardar os ovos em diferentes caixas.

Observe como ele organizou os ovos.



João colocou 12 ovos nesta caixa. Quando agrupamos 12 unidades, formamos 1 dúzia.



Nesta caixa, João colocou 6 ovos. Quando agrupamos 6 unidades, formamos meia dúzia.

Meia dúzia é a metade de uma dúzia. $[12 \div 2 = 6]$

DESAFIO



1- As galinhas do João botaram muitos ovos. Ele resolveu distribuí-los para as crianças do bairro.

Descubra quantos ovos cada criança recebeu de João e escreva a quantidade no triângulo. Caso haja necessidade, desenhe os ovos que faltam.

a) Ana recebeu meia dúzia de ovos.



b) Carol ganhou o mesmo que Ana mais meia dúzia.



c) Gustavo ganhou o mesmo que Ana mais uma dúzia.



d) Paulo recebeu uma dúzia.



e) Mariana ganhou o mesmo que Paulo mais meia dúzia.





Prefeitura
Conselheiro Lafaiete
SECRETARIA MUNICIPAL DE EDUCAÇÃO

PREFEITURA MUNICIPAL DE CONSELHEIRO LAFAIETE

SECRETARIA MUNICIPAL DE EDUCAÇÃO

Atividades Pedagógicas – 3º ANO Ensino Fundamental

MATEMÁTICA – Data: 30/04/2020

DADOS DO (A) ALUNO (A)

Escola:

Nome:

Ano/Turma:

Professor (a):

◆ VAMOS OBSERVAR O INGRESSO?



◆ QUEM FEZ O INGRESSO ESQUECEU DE 2 INFORMAÇÕES IMPORTANTES. QUE INFORMAÇÕES SÃO ESSAS?

◆ COMPLETE O INGRESSO COM AS INFORMAÇÕES ESQUECIDAS.

◆ CALCULE E RESPONDA:

QUAL O PREÇO DE ...

2 INGRESSOS _____

4 INGRESSOS _____

6 INGRESSOS _____

8 INGRESSOS _____

PREFEITURA MUNICIPAL DE CONSELHEIRO LAFAIETE
SECRETARIA MUNICIPAL DE EDUCAÇÃO
Atividades Pedagógicas – 3º ano Ensino Fundamental
LINGUA PORTUGUESA - Data: 22/04/2020

DADOS DO (A) ALUNO (A)

Escola:

Nome:

Ano/Turma:

Professor (a):

 Atividades

❖ No quadro abaixo, pinte as palavras que têm acento agudo e copie as que têm acento circunflexo.

chapéu	vigilância	máquina
camelô	lápiz	milênio
fubá	cachê	baú
ocê	calendário	pêra
abóbora	robô	mágico



❖ Leia o texto abaixo, circule as palavras acentuadas e registre-as ao lado.



Aladim e a lâmpada maravilhosa

Um dia, Aladim descobriu que, esfregando aquela lâmpada velha, saía de dentro um gênio, capaz das maiores proezas.

Aladim continuou vivendo modestamente. De vez em quando chamava o gênio e pedia a ele apenas o que precisava.

Um dia Aladim viu a filha do sultão.

Aladim ficou apaixonadíssimo.

Mas pra casar com filha de sultão era preciso ser muito rico.

Aladim então, apelou para o gênio. Pediu roupas, castelo, ouro, jóias. Escravos, brancos e pretos, bonitos e bem vestidos. Cavalos, presentes para o sultão, nem sei mais o quê.

Aladim casou com a princesa e foi muito feliz, durante muito tempo.

.....
.....
.....
.....
.....
.....
.....
.....



Prefeitura
Conselheiro Lafaiete
SECRETARIA MUNICIPAL DE EDUCAÇÃO

PREFEITURA MUNICIPAL DE CONSELHEIRO LAFAIETE
SECRETARIA MUNICIPAL DE EDUCAÇÃO
Atividades Pedagógicas – 3º ano Ensino Fundamental
LINGUA PORTUGUESA - Data: 23/04/2020

DADOS DO (A) ALUNO (A)

Escola:

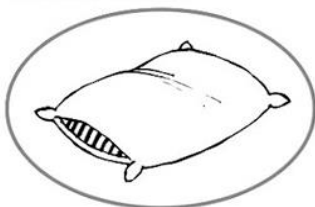
Nome:

Ano/Turma:


Professor (a):

ENCONTRO VOCÁLICO

COMPLETE OS NOMES DAS FIGURAS ESCRREVENDO ENCONTROS VOCÁLICOS.



TRAVESS___RO



MAM___



TES___RA




B___JA-FLOR




CAD___RA




M___



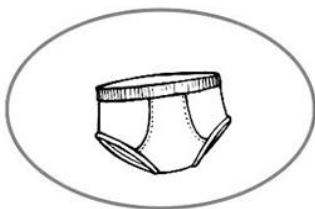
TELEVIS___



PAV___




V___L___



C___CA



B___LARINA



VASS___RA

DADOS DO (A) ALUNO (A)

Escola:

Nome:

Ano/Turma:

Professor (a):



João Pedro e seu irmão Simão estão na aula de natação.

O clube que eles freqüentam fica perto da casa deles, em frente à fábrica de botões.

Salomão é o professor. Ele nada tão bem como um tubarão.

Os meninos vestem seus calções e pulam na piscina. Salomão sempre elogia:

— Parabéns, crianças! Continuem assim que em breve serão campeões de natação.

Os meninos olham para ele com entusiasmo e satisfação.

Graça Batituci

1) Qual é o título do texto?

2) Quais são os nomes das crianças do texto?

3) Qual é o nome do professor de natação?



Prefeitura
Conselheiro Lafaiete
SECRETARIA MUNICIPAL DE EDUCAÇÃO

PREFEITURA MUNICIPAL DE CONSELHEIRO LAFAIETE

SECRETARIA MUNICIPAL DE EDUCAÇÃO

Atividades Pedagógicas – 3º ANO Ensino Fundamental

LÍNGUA PORTUGUESA – Data: 27/04/2020

DADOS DO (A) ALUNO (A)

Escola:

Nome:

Ano/Turma:

Professor (a):



JOÃO E O PÉ DE FEIJÃO

MAURÍCIO DE SOUSA

A MÃE DE JOÃO ESTÁ DOENTE. POR ISSO ELE RESOLVE VENDER A SUA VAQUINHA PARA COMPRAR REMÉDIOS.



NO MERCADO, UM HOMEM OFERECE UM PUNHADO DE FEIJOES MÁGICOS POR SUA VAQUINHA.



QUANDO SUA MÃE SOUBE, FICOU LOUCA DA VIDA E JOGOU OS FEIJOES DE JOÃO PELA JANELA.

NO DIA SEGUINTE, JOÃO PERCEBEU QUE NO LUGAR ONDE SUA MÃE JOGOU OS FEIJOES, CRESCERAM UM PÉ DE FEIJÃO ENORME.



JOÃO ESCALOU O PÉ DE FEIJÃO E LÁ NO ALTO, ACIMA DAS NUVENS, AVISTOU UM CASTELO.

NO CASTELO MORAVA UM GIGANTE, QUE TINHA UMA GALINHA PRESA, QUE BOTAVA OVOS DE OURO.

JOÃO LIBERTOU A GALINHA E QUANDO O GIGANTE ACORDOU FICOU MUITO BRABO.



QUANDO CHEGOU AO CHÃO, JOÃO CORTOU O PÉ DE FEIJÃO COM SUA MACHADINHA E O GIGANTE NÃO PÔDE DESCER.

COM A GALINHA DOS OVOS DE OURO, JOÃO E SUA MÃE FICARAM RICOS E FELIZES PARA SEMPRE.



De acordo com o texto “João e o pé de feijão” responda as questões a seguir.

1. Indique uma característica para João.

() obediente

() deslumbrado

() estudioso

2. “... A mãe de João estava doente. Por isso ele resolve vender a sua vaquinha...”.

De acordo com o trecho acima por que João queria vender a sua vaquinha?

() Para comprar feijões mágicos.

() Para comprar roupas novas.

() Para comprar remédios.

3. O que João encontrou quando escalou o pé de feijão?

() Um castelo

() Um gigante

() Uma princesa

() Uma galinha que botava ovos de ouro





Prefeitura
Conselheiro Lafaiete
SECRETARIA MUNICIPAL DE EDUCAÇÃO

PREFEITURA MUNICIPAL DE CONSELHEIRO LAFAIETE

SECRETARIA MUNICIPAL DE EDUCAÇÃO

Atividades Pedagógicas – 3º ANO Ensino Fundamental

LÍNGUA PORTUGUESA – Data: 28/04/2020

DADOS DO (A) ALUNO (A)

Escola:

Nome:

Ano/Turma:

Professor (a):

ENCONTRE PALAVRAS REFERENTES AO TEXTO “JOÃO E O PÉ DE FEIJÃO” NO CAÇA-PALAVRAS ABAIXO, DEPOIS COPIE-AS.

JOÃO

MÃE

GIGANTE

FEIJÃO

F	E	I	J	Ã	O	W
H	K	Q	Y	V	B	Z
M	Ã	E	Z	W	Y	K
S	J	O	Ã	O	T	Ç
G	I	G	A	N	T	E





PREFEITURA MUNICIPAL DE CONSELHEIRO LAFAIETE

SECRETARIA MUNICIPAL DE EDUCAÇÃO

Atividades Pedagógicas – 3º ANO Ensino Fundamental

LÍNGUA PORTUGUESA – Data: 29/04/2020

DADOS DO (A) ALUNO (A)

Escola:

Nome:

Ano/Turma:

Professor (a):

Meu amorzinho, leia e reescreva as frases corrigindo-as de acordo com texto:


A) João foi ao mercado vender uma galinha porque a mãe precisava de dinheiro para comprar um vestido.

B) João trocou seu animal por alguns grãos mágicos de milho.

C) A mãe gostou tanto da ideia que plantou os grãos de milho num belo vaso.

D) João ficou espantado ao ver a enorme jabuticabeira que nasceu no quintal.

3. Pinte o desenho de forma caprichosa.





Prefeitura
Conselheiro Lafaiete
SECRETARIA MUNICIPAL DE EDUCAÇÃO

PREFEITURA MUNICIPAL DE CONSELHEIRO LAFAIETE

SECRETARIA MUNICIPAL DE EDUCAÇÃO

Atividades Pedagógicas – 3º ANO Ensino Fundamental

LÍNGUA PORTUGUESA – Data: 30/04/2020

DADOS DO (A) ALUNO (A)

Escola:

Nome:

Ano/Turma:

Professor (a):

- Estas atividades são para serem feitas em seu caderno com muito capricho!

- Recorte os quadrinhos, faça um colorido bem bonito e cole-os, organizando-os na ordem correta de acordo com o texto **João e o Pé de Feijão**.
- Agora, reconte a história, reescrevendo-a com bastante atenção!

